



DELHI PUBLIC SCHOOL, BARAMULLA

SUBJECT ENRICHMENT PROGRAMME- (2026)

SET 'A'

CLASS: VII

SUBJECT: ENGLISH LANGUAGE & LITERATURE TIME: 60 MINS

MAX. MARKS: 20

NAME: _____

ROLL NO. : _____

GENERAL INSTRUCTIONS:

1. The paper is divided into Three Sections (A, B, C);
2. Section A: Reading Comprehension (5 Marks).
3. Section B: Grammar (5Marks).
4. Section C: Literature (10 Marks).
5. Specific weightage is given against each section.
6. Attempt all the questions in the right order.

SECTION A (READING COMPREHENSION)

Comprehension Through Reading Skills

Q1. Read the passage given below and choose the most appropriate answer to each question out of the options that follow: 1x5= 5

“The Value of Helping Others”

Helping others is one of the simplest and kindest things we can do. When we help someone, we not only make their life easier but also feel happy inside. A small act of kindness can change someone’s whole day. It may be as simple as giving directions to a stranger, sharing your lunch with a friend, or helping your parents at home.

Helping others also make our relationships stronger. When we support our friends and family, they feel loved and cared for. In school, helping a classmate understand a lesson can make them feel confident. It also improves teamwork and makes the classroom a happier place.

Another important thing about helping others is that it teaches us responsibility. When we help at home like cleaning our room, arranging books, or assisting younger siblings we learn important life skills. These habits make us organized and responsible in the future.

Sometimes, people need help but feel too shy to ask. We should learn to notice when someone needs support. A friendly smile, a kind word, or a helpful hand can make a big difference.

Helping does not always mean giving money; often, giving time, attention, or respect is more valuable.

When we help others, we also learn compassion. Compassion means understanding how someone feels and trying to make their situation better. A person who is kind and helpful becomes respected by everyone. Communities grow stronger when people help each other.

So, always remember: no act of kindness is too small. Even the smallest help can create a big impact. Helping others makes the world a better place and makes us better human beings.

QUESTIONS:

- I. Why is helping others important?
- II. Write one simple example of helping someone mentioned in the passage.
- III. How does helping others make school a better place?
- IV. What does the word “compassion” mean in the passage?
- V. What happens to us when we help others regularly?

SECTION B (GRAMMAR SKILLS) (05 Marks)

Q2. Convert the following sentences from assertive to interrogative. ANY FIVE

(5)

I.	This is not a suitable colour for my room.
II.	She was very industrious.
III.	The game ended in a draw.
IV.	It does not matter if there is nobody to support me.
V.	Chinese cuisine is delicious.
VI.	The weather today is extremely pleasant.
VII.	My brother bought a beautiful watch.

SECTION C (LITERATURE FROM THE TEXT) (10 Marks)

Q3. Short Answer Type Questions. Answer in about 30-40 Words. ANSWER ANY TWO

(2x2=4)

I.	Why should children play informal, outdoor games?
II.	Is Hopscotch a street game?
III.	What do you mean by “agility”?
IV.	Why is the playground called the “Echoing Green” in the poem?

Q4. Long Answer Type Questions. Answer in about 60-80 Words. ANSWER ANY ONE

(6x1=6)

I.	Discuss how you play a game of Hopscotch.
II.	Describe what happens on the Echoing Green during the day. Who comes to the playground, and how do the children and old people spend their time there?

*******CONCLUDED*******



DELHI PUBLIC SCHOOL, BARAMULLA

SUBJECT ENRICHMENT PROGRAMME-"B" (2026)

CLASS: VII
MINS

SUBJECT: ENGLISH LANGUAGE & LITERATURE

TIME: 60

MAX. MARKS: 20

NAME: _____

ROLL NO. : _____

GENERAL INSTRUCTIONS:

1. The paper is divided into Three Sections (A, B, C);
2. Section A: Reading Comprehension (5 Marks).
3. Section B: Grammar (5Marks).
4. Section C: Literature (10 Marks).
5. Specific weightage is given against each section.
6. Attempt all the questions in the right order.

SECTION A (READING COMPREHENSION)

Comprehension Through Reading Skills

Q1 Read the passage given below and choose the most appropriate answer to each question out of the options that follow:

1x5= 5

“The Importance of Cleanliness”

Cleanliness is an important habit that helps us stay healthy and happy. When we keep ourselves and our surroundings clean, we protect our bodies from germs and diseases. Simple habits like washing hands before eating, brushing our teeth twice a day, and taking a bath regularly help us stay fresh and active.

Keeping our home and school clean is also our responsibility. Throwing waste in the dustbin, keeping our classrooms tidy, and not littering on the roads help create a pleasant environment.

When everyone follows these habits, our society becomes cleaner and more beautiful.

Cleanliness also reflects good manners. A clean person looks disciplined and well-organized.

People respect those who take care of hygiene. It also shows that we care about our environment and the people around us.

Sometimes, people think cleaning is a boring task, but doing it regularly makes life easier. A clean room helps us find things quickly, and a clean house keeps us comfortable. Clean surroundings give us peace of mind and help us study or work better.

In short, cleanliness is not just a habit it is a way of life. When we make cleanliness a part of our daily routine, we stay healthy, confident, and ready to face the day with a smile.

QUESTIONS:

- I. Why is cleanliness important for us?
- II. Write two simple habits that help us stay clean.
- III. How does cleanliness make our society better?
- IV. Why do people respect those who maintain cleanliness?
- V. What benefit do we get from keeping our room clean?

SECTION B (GRAMMAR SKILLS) (05 Marks)

Q2 Change the following sentences into interrogative sentences: . ANY FIVE (5)

I.	She is reading a book.
II.	They are going to school.
III.	He can drive a car.
IV.	You will help me.
V.	The children were playing in the park.
VI.	She has finished her homework.
VII.	They speak English.

SECTION C (LITERATURE FROM THE TEXT) (10 Marks)

Q3. Short Answer Type Questions. Answer in about 30-40 Words. ANSWER ANY TWO

(2x2=4)

- | | |
|------|--|
| I. | What skills does playing Hopscotch help develop in children? |
| II. | What happens if the marker does not land in the right square, or the player loses balance? |
| III. | What sounds do we hear at the beginning of the poem and what do they welcome? |
| IV. | What do "Old John" and the old folk remember when they see children playing on the Green? |

Q4. Long Answer Type Questions. Answer in about 60-80 Words. ANSWER ANY ONE

(6x1=6)

- | | |
|-----|--|
| I. | Describe how Hopscotch can be both a fun game and a learning experience. What does the game teach children besides fun? |
| II. | How does the poem "The Echoing Green" show what happens on the playground from morning to evening? Explain how the children and old people spend their time there. |

*******CONCLUDED*******



DELHI PUBLIC SCHOOL, BARAMULLA

SUBJECT ENRICHMENT PROGRAMME-"C" (2026)

CLASS: VII

SUBJECT: ENGLISH LANGUAGE & LITERATURE TIME: 60 MINS

MAX. MARKS: 20

NAME: _____

ROLL NO. : _____

GENERAL INSTRUCTIONS:

1. The paper is divided into Three Sections (A, B, C);
2. Section A: Reading Comprehension (5 Marks).
3. Section B: Grammar (5Marks).
4. Section C: Literature (10 Marks).
5. Specific weightage is given against each section.
6. Attempt all the questions in the right order.

SECTION A (READING COMPREHENSION)

Comprehension Through Reading Skills

Q1 Read the passage given below and choose the most appropriate answer to each

question out of the options that follow:

1x5= 5

“The Joy of Gardening”

Gardening is a wonderful hobby that many people enjoy. It allows us to spend time close to nature and learn how plants grow. Even a small garden can bring a lot of happiness. When we plant seeds, water them daily, and watch them slowly turn into plants, it feels magical.

Gardening teaches us patience because plants take time to grow.

Taking care of plants also makes us responsible. We must give them enough sunlight, water them properly, and remove weeds that harm them. Many people grow flowers like roses, marigolds, and sunflowers because they make the garden bright and colorful. Some people grow vegetables such as tomatoes, spinach, and beans, which are fresh and healthy to eat.

Gardening also helps the environment. Plants give us oxygen, keep the air fresh, and attract birds and butterflies. Spending time in a garden makes our mind calm and relaxed. It is a peaceful activity that helps us forget stress and enjoy nature.

In today's busy world, gardening reminds us to slow down and appreciate small things. Even children can learn a lot by growing their own plants. A tiny seed in the soil can become a big plant one day this teaches us that growth takes time and care.

QUESTIONS

- I. Why does gardening bring happiness to people?
- II. What does gardening teach us about responsibility?
- III. Name two flowers and two vegetables mentioned in the passage.
- IV. How does gardening help the environment?
- V. What important lesson does a growing seed teach us?

SECTION B (GRAMMAR SKILLS) (05 Marks)

Q2 Change the following sentences into interrogative sentences: ANY FIVE

(5)

I.	She is not unhappy with her results.
II.	This road is not unsafe at night.
III.	He is not a careless student.
IV.	The answer is not incorrect.
V.	The story is not boring.
VI.	The weather is not unpleasant today.
VII.	It is not impossible to finish the work.

SECTION C (LITERATURE FROM THE TEXT) (10 Marks)

Q3. Short Answer Type Questions. Answer in about 30-40 Words. ANSWER ANY TWO

(2x2=4)

- | | |
|------|--|
| I. | What does the rising sun bring to the beginning of the day on the Echoing Green? |
| II. | How do the old people feel when they watch the children playing? |
| III. | What materials are needed to play Hopscotch? |
| IV. | What happens when a player steps on a line or loses balance while hopping? |

Q4. Long Answer Type Questions. Answer in about 60-80 Words. ANSWER ANY ONE
(6x1=6)

- | | |
|-----|--|
| I. | Explain how Hopscotch helps children learn coordination and balance while still enjoying the game. What steps must players follow? |
| II. | How does the poem “The Echoing Green” show what happens on the playground from morning to evening? Explain how the children and old people spend their time there. |

*******CONCLUDED*******



DELHI PUBLIC SCHOOL BARAMULLA

SUBJECT ENRICHMENT PROGRAMME - SETI (2025)

Class: 7th

Maximum Marks: 20

Subject: Mathematics

Time: 1 hour

Name : _____

Roll No: _____

General Instructions:

- i. The question paper consists of 11 questions and it is divided into four sections A, B, C and D.
- ii. **Section A** comprises of 06 MCQs carrying 1 mark each.
- iii. **Section B** comprises of 02 questions carrying 2 marks each.
- iv. **Section C** comprises of 02 questions carrying 3 marks each.
- v. **Section D** comprises of 01 question carrying 4 marks.
- vi. All questions are compulsory. However, an internal choice has been provided in 1 question of 4 marks. You have to attempt only one of the alternatives in that question.
- vii. Use of calculators is not permitted.

Section A (1 mark each)

Choose the correct answer:

1.	$(-5) \times (-5) \times (-5)$ is = _____.	1
	a) -125 b) 325 c) 175 d) 25	
2.	$(-4) + (-5) = \underline{\hspace{1cm}} + (-4)$.	1
	a) -19 b) -5 c) 21 d) -3	
3.	$\frac{1}{3}$ of 18 =	1
	a) 9 b) 6 c) 7 d) -35	
4.	$\frac{27}{40} \times \frac{20}{21} = \underline{\hspace{1cm}}$.	1
	a) 3 b) $\frac{9}{14}$ c) 6 d) -6	
5.	$\frac{3}{5} \div \frac{1}{4} = \underline{\hspace{1cm}}$.	1



DELHI PUBLIC SCHOOL BARAMULLA

SUBJECT ENRICHMENT PROGRAMME -SET II (2025)

Class: 7th

Maximum Marks: 20

Subject: Mathematics

Time: 1 hour

Name : _____

Roll No: _____

General Instructions:

- i. The question paper consists of 11 questions and it is divided into four sections A, B, C and D.
- ii. **Section A** comprises of 06 MCQs carrying 1 mark each.
- iii. **Section B** comprises of 02 questions carrying 2 marks each.
- iv. **Section C** comprises of 02 questions carrying 3 marks each.
- v. **Section D** comprises of 01 question carrying 4 marks.
- vi. All questions are compulsory. However, an internal choice has been provided in 1 question of 4 marks. You have to attempt only one of the alternatives in that question.
- vii. Use of calculators is not permitted.

Section A (1 mark each)

Choose the correct answer:

1.	$(-4) \times (-6) \times (-3) \times (-2)$ is a) $\frac{11}{7}$ b) 144 c) 11 d) 1	1
2.	$[(-7) + (-a)] = \text{_____} + (-7)$. a) $-a$ b) -14 c) 7 d) -21	1
3.	$\frac{4}{5}$ of 255 = a) 9 b) 18 c) 204 d) 35	1
4.	$4\frac{1}{3} \times 3\frac{1}{2} = \text{_____}$. a) 3 b) -3 c) $15\frac{1}{6}$ d) -6	1

5.	$\frac{1}{2} \div \frac{4}{5} = \text{_____}$ a) 56 b) $\frac{5}{8}$ c) 0 d) 1	1
6.	$4 \times 4\frac{3}{10} = \text{_____}$ a) $29\frac{1}{3}$ b) 4 c) 9 d) 8	1

Section B (2 marks each)

7.	Using distributive property, find the following: (i) $18 \times (-16) + 2 \times (-16)$ (ii) $20 \times 12 + 20 \times (-4)$	2
8.	Verify: $(11 + 3) + (-9) = 11 + [3 + (-9)]$	2

Section C (3 marks each)

9.	A 440m long road is being repaired. At the end of three days, the workers had repaired $\frac{3}{4}$ of the road. What length of road is left unrepaired?	3
10.	Every floor of a 24-storey building is 4 m high. If a balloon rises 3 m every second, how long will it take to rise from the 6 th floor to the 26 th floor?	3

Section D (4 marks each)

11.	Simplify the following expression using BODMAS: (i) $100 \times (-10) + [400 \div \{100 - (50 - \overline{5 \times 10})\}]$ Or 1800 people visited a book fair. $\frac{7}{18}$ Of them were men and $\frac{11}{24}$ of them were ladies. The remaining were children. What fraction of them were children and how many children were present?	4
-----	---	---

CONCLUDED



DELHI PUBLIC SCHOOL BARAMULLA

SUBJECT ENRICHMENT PROGRAMME – SET III

Class: 7th

Maximum Marks: 20

Subject: Mathematics

Time: 1 hour

Name: _____

Roll No: _____

General Instructions:

- i. The question paper consists of **11** questions and it is divided into four sections A, B, C and D.
- ii. **Section A** comprises of **06 MCQs** carrying **1 mark** each.
- iii. **Section B** comprises of **02 questions** carrying **2 marks** each.
- iv. **Section C** comprises of **02 questions** carrying **3 marks** each.
- v. **Section D** comprises of **01 question** carrying **4 marks**.
- vi. All questions are compulsory. However, an internal choice has been provided in 1 question of 4 marks. You have to attempt only one of the alternatives in that question.
- vii. Use of calculators is not permitted.

Section A (1 mark each)

Choose the correct answer:

1.	The reciprocal of $\frac{11}{7}$ is a) $\frac{11}{7}$ b) $\frac{7}{11}$ c) $\frac{11}{11}$ d) $\frac{7}{7}$	1
2.	$(-7) \times (-3) = \underline{\hspace{2cm}}$. a) 14 b) -14 c) 21 d) -21	1
3.	$\frac{1}{3}$ of 27 = a) 9 b) 18 c) 27 d) 35	1
4.	$(-36) \div (+6) = \underline{\hspace{2cm}}$. a) 3 b) -3 c) 6 d) -6	1
5.	$p + r = \underline{\hspace{2cm}} + p$	1



دہلی پبلک اسکول بارہمولہ

سرمائی تفویض : سیٹ 1 نمبرات : ۲۰

ضروری ہدایات رول نمبر...

آپ جانچ لیجیے کہ اس سرگرمی میں چھپے صفحات کی تعداد ۴ ہے۔

اس سرگرمی کو حصہ اب ج میں بانٹ دیا گیا ہے۔

اس سرگرمی میں سوالات کی کل تعداد ۷ ہے۔

حصہ (الف)

سوال نمبر 1: درج ذیل تدریسی نشی اقتباس کو پڑھ کر نیچے پوچھے گئے سوالات کے جوابات لکھیے۔ (۵)

۱۸۲۰ء میں اٹلی کے شہر فلورنس میں ایک لڑکی پیدا ہوئی۔ جس کا نام گھر والوں نے نائٹ انگیل رکھا۔ فلورنس کو بچپن سے ہی سے گزیاں بنانے کا شوق دامن گیر تھا۔ ۱۸۵۴ء میں انگریزوں اور فرانسیسیوں کو روس کے خلاف جنگ ہوئی۔

۱: فلورنس کب پیدا ہوئی؟

۲: فلورنس کس ملک اور کس شہر میں پیدا ہوئی؟

۳: گھر والوں نے اس لڑکی کا کیا نام رکھا؟

۴: گڑیاں بنانے کا شوق فلورنس کو کب سے تھا؟

۵: ۱۸۵۴ء میں کس کس ملک کو کس ملک کے خلاف جنگ ہوئی؟

سوال نمبر 2: درج ذیل غیر تدریسی شاعری بند کو پڑھ کر نیچے پوچھے گئے سوالات کے جوابات لکھیے۔ (۵) (علم کی روشنی)

علم وہ روشنی ہے جو دل کو مٹور کرتی ہے

جہالت کے اندھیرے مٹاتی ہے اور انسان کو آگے بڑھاتی ہے

جو علم سیکھتا سکھاتا ہے وہ ہارتا نہیں ہراتا ہے

وہ زندگی میں کبھی نہیں ہارتا جیتتا جتنا ہے

۱: علم کیا کرتا ہے؟

۲: جہالت کے اندھیرے کون مٹاتا ہے؟

۳: علم سیکھنے والا انسان کیسا ہوتا ہے؟

۴: الفاظ کے معنی لکھئے؟ روشنی، جہالت، مٹور

۵: دو جملوں میں اس نظم کا مرکزی خیال لکھئے؟

حصہ (ب)

سوال نمبر 3: تفصیل سے جوابات لکھیے۔ (۴)

۱: علم کی عظمت پر پانچ جملے لکھئے؟

۲: انگریزوں اور فرانسیسیوں کی جنگ میں اس نے کیا رول ادا کیا؟

سوال نمبر 4: مختصر جوابات لکھیے۔ (۲)

۱: فلورنس کب اور کہاں پیدا ہوئی؟

۲: کیا علم سیکھنے والا ہارتا ہے ؟

حصہ (ج)

سوال نمبر 5: ضد لکھیے۔ (۲)

اندھیرا ، نفرت ، جہالت ، غم

سوال نمبر 6: نیچے دیے گئے الفاظ میں 'بے' کا سابقہ لکھیے۔ (۲\۱)

حال ، حد

سوال نمبر 7: نیچے دیے گئے الفاظ میں 'کار' کا لاحقہ لکھیے۔ (۲\۱)

بد ، گل

سوال نمبر 8: املا درست کیجیے؟ (۱)

جس نے دنیا کو ترقی کر کے گریہوں ، بے کصوں کی کھدمت میں اپنی امر گزار دی۔

ختم شد



دہلی پبلک اسکول بارہمولہ
موضوع کی افزودگی کی سرگرمی

Set:-2

جماعت: ساتویں مضمون: اردو

رول نمبر: ----- نمبرات: ۲۰

ضروری ہدایات - اس سرگرمی میں صفحات کی کل تعداد ۳ ہے اور سوالات کی کل تعداد ۸ ہے۔ اس سرگرمی کو حصہ ۱، ب اور ج میں بانٹ دیا گیا ہے۔ نوٹ: اس سرگرمی کو علیحدہ نوٹ بک پر حل کریں۔

حصہ (الف)

سوال نمبر 1: درج ذیل غیر تدریسی نشری اقتباس کو پڑھ کر نیچے پوچھے گئے سوالات کے جوابات لکھیے۔ (۵)۔

عنوان: محنت کی اہمیت

محنت انسان کی کامیابی کی کنجی ہے۔ جو لوگ محنت کرتے ہیں وہ ہمیشہ آگے بڑھتے ہیں۔ ہمارے بزرگ کہتے ہیں کہ محنت کبھی رائیگاں نہیں جاتی۔ طالب علم اگر دل لگا کر پڑھائی کرے تو وہ اچھے نمبروں سے پاس ہوتا ہے۔ اسی طرح کسان کھیتوں میں دن رات کام کرتا ہے، تب جا کر فصل تیار ہوتی ہے۔ ہمیں چاہیے کہ ہم اپنے کام کو ایمانداری اور ذمہ داری کے ساتھ انجام دیں تاکہ ہم ایک کامیاب انسان بن سکیں۔

محنت کس چیز کی کنجی ہے؟

بزرگ کیا کہتے ہیں؟

طالب علم کیسے اچھے نمبروں سے پاس ہوتا ہے؟

کسان فصل تیار کرنے کے لئے کیا کرتا ہے؟

عبارت کا مناسب عنوان لکھئے؟

سوال نمبر 2: درج ذیل تدریسی شاعری بند کو پڑھ کر نیچے پوچھے گئے سوالات کے جوابات لکھیے۔ (۵)

جہاں جائیں وہاں ہم علم کی شمع کریں روشن اجالوں سے منور ہو ہمارے دیش کا آنگن

مہک تیری آتی ہے گلوں میں گلستانوں میں بزرگی کا تیری اعلان ہوتا ہے اذانوں میں

میری مالک عطا کر شادمانی غم کے ماروں کو عنایت سے تو اپنی دے سہارا بے سہاروں کو

۱: مہک کا مترادف لکھئے؟

۲: کس کی مہک گلوں میں میں اور گلستانوں میں آتی ہے؟

۳: اللہ کی بزرگی کا اعلان کس سے ہوتا ہے؟

۴: لفظ "شادمانی" کا مطلب ہے؟ خوشی، غم

۵: مناجات نظم کو کتے ہیں؟ رباعی، حمد و دعا

حصہ (ب)

سوال نمبر 3: تفصیل سے جوابات لکھیے۔ (۴)

۱: اللہ کی قدرت اور خوبصورتی کس کس چیز سے ظاہر ہوتی ہے؟

۲: محنت کی اہمیت پر مختصر نوٹ لکھئے؟

سوال نمبر 4: مختصر جوابات لکھیے۔ (صرف دو کے) (۲)

۱: آپ پڑھائی کے لئے کتنی محنت کرتے ہیں؟

۲: شاعر اللہ سے کون سے دولت مانگتا ہے؟

حصہ (ج)

سوال نمبر 5: جملے لکھیے۔ (۲)

انسان، رات، محنت، کسان

سوال نمبر 6: نیچے دیے گئے الفاظ میں 'بے' کا سابقہ لکھیے۔ (۲/۱)

ایمان، وجہ

سوال نمبر 7: نیچے دیے گئے الفاظ میں کا لاحقہ لکھیے۔ (۲/۱)

عقل، حاجت

سوال نمبر 8: املا درست کیجیے؟ (۱)

مناجا، کپڑے

ختم شد



دہلی پبلک اسکول بارہمولہ

موضوع کی افزودگی کی سرگرمی (۲۶-۲۰۲۵)

جماعت: ساتویں مضمون: اردو

سرمائی تفویض سیٹ 3 نمبرات ۲۰:

ضروری ہدایات :- اس سرگرمی میں صفحات کی کل تعداد ۳ ہے۔ اس سرگرمی کو حصہ ۱، ب اور ج میں بانٹ دیا گیا ہے۔ نوٹ: اس سرگرمی کو علیحدہ نوٹ بک پر حل کریں۔

حصہ (الف)

سوال نمبر 1: درج ذیل تدریسی نشری اقتباس کو پڑھ کر نیچے پوچھے گئے سوالات کے جوابات لکھیے۔ (۵)

فلورنس نائٹینگل جدید نرسنگ کی بانی کہلاتی ہیں۔ وہ 1820ء میں اٹلی کے شہر فلورنس میں پیدا ہوئیں۔ فلورنس نائٹینگل بچپن سے ہی خدمتِ خلق کا جذبہ رکھتی تھیں۔ کریمیا کی جنگ کے دوران انہوں نے زخمی فوجیوں کی خدمت کے لیے اسپتالوں میں بہت محنت کی۔ وہ رات کے وقت چراغ لے کر وارڈز میں مریضوں کی دیکھ بھال کرتی تھیں، اسی لیے انہیں "لیڈی ود دی لمپ" یعنی چراغ والی خاتون کہا جاتا ہے۔ ان کی محنت اور ہمدردی نے نرسنگ کے شعبے کو ایک نیا مقام دیا۔ نائٹینگل نے دنیا کو یہ سکھایا کہ مریض کی صحیح دیکھ بھال، صفائی اور رحم دلی علاج کا سب سے اہم حصہ ہیں۔

۱: فلورنس نائٹینگل کہاں پیدا ہوئیں؟

۲: انہیں "لیڈی ود دی لمپ" کیوں کہا جاتا ہے؟ نائٹینگل ۳: فلورنس نائٹینگل کس جنگ کے دوران زخمی فوجیوں کی خدمت کی؟

۴: نرسنگ کے شعبے میں فلورنس نائٹینگل کا کیا کردار ہے؟

۵: مریض کی دیکھ بھال کے لیے انہوں نے کس بات پر زور دیا؟

سوال نمبر 2: درج ذیل تدریسی شاعری بند کو پڑھ کر نیچے پوچھے گئے سوالات کے جوابات لکھیے۔ (۵)

یہ سب منظر، یہ موسم اور بہاروں کی ہوا سب خدا کی شان ہیں، کرتی ہیں قدرت کی گواہ
پھول کی خوشبو، چمکتی دھوپ، برستی نرم گھٹا دل کو دیتا ہے سکوں، قدرت کا یہ بدیہ عطا
پرنوں کی چکاروں میں ہے اس کی ہی ثنا ہر دیا، ہر روشنی میں ہے اس کے نور کا پتہ
دعا ہے اے خدا! رکھنا یہ دنیا بھی حسین تو ہی دیتا ہے تو ہی دیتا ہے کرم، اور تو ہی رکھتا ہے بھلا

1. شاعر موسم اور بہاروں کو کس کی شان قرار دیتا ہے؟

2. پھول کی خوشبو اور دھوپ شاعر کو کیا دیتی ہیں؟

3. پرنوں کی چکار میں شاعر کو کس کی ثنا سنائی دیتی ہے؟

4. نظم کے مطابق روشنی اور دیا میں کیا نظر آتا ہے؟

5. شاعر خدا سے کیا دعا کرتا ہے؟

حصہ (ب)

سوال نمبر 3: تفصیل سے جوابات لکھیے۔ (۴)

۱: نظم کے مطابق قدرت کی چیزیں خدا کی عظمت کو کیسے ظاہر کرتی ہیں؟

۲: فلورنس کی خدمات پر ایک مختصر نوٹ تحریر کیجیے؟

سوال نمبر 4: مختصر جوابات لکھیے۔ (۲)

۱: چراغ کا مترادف لکھئے؟

۲: پھول کا ضد لکھئے؟

۳: ہمارے قدم کس طرف اٹھنے چاہیے؟

حصہ (ج)

سوال نمبر 5: جملے بنائیے۔ (۲)

مریض ، زخمی

سوال نمبر 6: اسم علم کی قسمیں لکھئے۔ (۲)

سوال نمبر 7: املا درست کیجئے؟ (1)

حص ، کدم ، دوپ ، متابق۔

ختم شد



DELHI PUBLIC SCHOOL BARAMULLA

SUBJECT ENRICHMENT PROGRAMME (2025)

SET- 1

विषय : -हिंदी

कुल पृष्ठ :- 02

कक्षा : -7वीं

अधिकतम अंक : 20

सामान्य निर्देश:-

- इस प्रश्नपत्र- में तीन खंड हैं खंड 'क', 'ख', और 'ग'। प्रश्न पत्र में कुल प्रश्नों की संख्या 7 है।
- खंड 'क' में अपठित गद्यांश पर आधारित बहुविकल्पीय प्रश्न दिए गए हैं।
- खंड 'ख' में व्यावहारिक व्याकरण पर आधारित प्रश्न पूछे गए हैं। सभी प्रश्नों में दिए उपप्रश्नों को ध्यान से पढ़ें।
- खंड 'ग' में कुल तीन प्रश्न पूछे गए हैं। दिए गए निर्देशों के आधार पर सभी प्रश्न करने अनिवार्य हैं।
- कार्य में स्वच्छता का विशेष ध्यान रखें और सभी प्रश्नों को ध्यानपूर्वक पढ़ें।

खंड क (अपठित गद्यांश)

प्रश्न 1. निम्नलिखित गद्यांश को पढ़कर पूछे गए प्रश्नों के उत्तर लिखिए :

(5×1=5)

पेड़ हमारे जीवन के लिए बहुत उपयोगी हैं। यह हमें ऑक्सीजन देते हैं और वातावरण को स्वच्छ बनाते हैं। पेड़ों से हमें फल, फूल, लकड़ी और दवाइयाँ मिलती हैं। यदि पेड़ न हों तो पृथ्वी पर जीवन असंभव हो जाएगा। इसलिए हमें पेड़ों को काटने के बजाय अधिक से अधिक पेड़ लगाने चाहिए और उनकी सुरक्षा करनी चाहिए।

क. पेड़ हमें क्या देते हैं?

१. शक्ति २. ऑक्सीजन ३. भोजन ४. मशीनें

ख. पेड़ों से हमें क्या-क्या मिलता है?

१. फल और फूल २. दवाइयाँ ३. लकड़ी ४. उपरोक्त सभी

ग. यदि पेड़ न हों तो क्या होगा?

१. कुछ नहीं होगा २. जीवन असंभव हो जाएगा ३. शहर बढ़ेंगे ४. सब खुश होंगे

घ. हमें क्या करना चाहिए?

१. पेड़ काटने चाहिए २. पेड़ लगाकर उनकी रक्षा करनी चाहिए. ३. पेड़ों को जलाना चाहिए ४. पेड़ों को तोड़ना चाहिए

ङ. यह गद्यांश किसके महत्व पर आधारित है?

१. जानवरों के २. पेड़ों के ३. खेलों के ४. स्कूल के

खंड – ख (व्याकरण)

प्रश्न 2. रिक्त स्थानों में उचित सर्वनाम भरिए—

(2×1=2)

(1) ___ आज स्कूल नहीं आया।

(2) यह मेरी पुस्तक है, ___ मत उठाओ।

प्रश्न 3. वाक्यों में क्रिया का प्रकार बताइए—

(2×1=2)

(1) पापा बाज़ार जा रहे हैं।

(2) वह कहानी लिखती है।

प्रश्न 4. वाक्यों में विशेषण पहचानिए—

(2×1=2)

● यह सुंदर फूल है।

● मेरे पास लाल खिलौना है।

खंड – ग (लेखन)

प्रश्न 5. निम्नलिखित चित्र को देखकर लगभग 4-5 वाक्यों में चित्र-वर्णन लिखिए—

(1×3=3)



प्रश्न 6. किसी एक विषय पर पत्र लेखन करें—

(1×3=3)

● अपने मित्र को परीक्षा की शुभकामनाएँ देते हुए पत्र लिखिए।

अथवा

● विद्यालय के प्रधानाचार्य को पुस्तकालय में नई पुस्तकों की व्यवस्था करने हेतु आवेदन पत्र लिखिए।

प्रश्न 7. निम्न में से किसी एक विषय पर 80-100 शब्दों में अनुच्छेद लिखिए—

(1×3=3)

● "जल संरक्षण का महत्व"

अथवा

● "मेरा पसंदीदा त्योहार"

.....समाप्त.....



Delhi Public School Baramulla
Subject Enrichment Program (SET-2) 2025-2026

विषय:-हिन्दी
कक्षा:- सातवीं (7th)

अधिकतम अंक :-20
अनुक्रमांक :-.....

सामान्य निर्देश

- इस प्रश्न-पत्र में तीन खंड हैं खंड 'क', 'ख' और 'ग'। प्रश्न पत्र में कुल प्रश्नों की संख्या 7 है।
- खंड 'क' में कुल एक अपठित गद्यांश है। गद्यांश पर आधारित 5 वर्णनात्मक प्रश्न दिए गए हैं।
- खंड 'ख' में व्यावहारिक व्याकरण पर आधारित 3 प्रश्न पूछे गए हैं। सभी प्रश्नों के उत्तर ध्यान से लिखें।
- खंड 'ग' में रचनात्मक लेखन पर आधारित 2 प्रश्न पूछे गए हैं। प्रश्नों में आंतरिक विकल्प भी दिए गए हैं। प्रश्नों के उत्तर दिए गए निर्देशों का पालन करते हुए लिखिए।
- कार्य में स्वच्छता का विशेष ध्यान रखें और सभी प्रश्नों को ध्यानपूर्वक

खंड-क

प्रश्न 1. निम्नलिखित अपठित गद्यांश को पढ़कर प्रश्नों के उत्तर लिखिए। (1×5=5)

नीलू एक छोटा बच्चा है, जो पहाड़ों के बीच बसे एक गाँव में रहता है। उसे अपने गाँव का हर मौसम बहुत पसंद है, लेकिन बरसात का मौसम उसका सबसे प्रिय है। बरसात में उसके गाँव के चारों ओर हरियाली फैल जाती है, और आसमान में इंद्रधनुष खेल उठता है। नीलू को पेड़-पौधों और फूलों से बहुत लगाव है। वह रोज़ सुबह जल्दी उठकर खेतों में जाता है और पेड़ों पर चढ़ता है। उसकी माँ उसे रोज़ एक छोटी टोकरी में खाना देकर भेजती हैं, ताकि वह खेत में रहकर ताजगी से भरी हवा का आनंद ले सके। नीलू का एक प्यारा दोस्त भी है, जिसका नाम मोती है। मोती एक सफेद रंग का छोटा-सा कुत्ता है, जो हमेशा नीलू के साथ रहता है। दोनों मिलकर खेतों में दौड़ते हैं और तितलियों के पीछे भागते हैं। नीलू और मोती को देखकर गाँव के लोग भी खुश हो जाते हैं, क्योंकि उनकी मस्ती देखकर सभी के चेहरे पर मुस्कान आ जाती है।

प्रश्नावली:

i. नीलू कहाँ रहता है?

- क) शहर में ख) गाँव में ग) जंगल में घ) नदी के किनारे

ii. नीलू को कौन-सा मौसम सबसे प्रिय है?

- क) गर्मी ख) सर्दी ग) बरसात घ) वसंत

iii. बरसात के मौसम में गाँव में क्या खेल उठता है?

- क) सूरज ख) इंद्रधनुष ग) चाँद घ) सितारे
- iv. नीलू को किन चीज़ों से लगाव है?
- क) खेलों से ख) किताबों से ग) पेड़-पौधों और फूलों से घ) गाड़ियों से
- v. नीलू सुबह-सुबह कहाँ जाता है?
- क) स्कूल ख) बाजार ग) जंगल घ) खेत

खंड-ख(व्याकरण)

प्रश्न 2: दिए गए मुहावरों का प्रयोग अर्थ लिखकर वाक्य में करिए - (1×3=3)

- (i) आँख दिखाना ii) अंगूठा दिखाना iii) आँख का तारा

प्रश्न 3: निम्नलिखित वाक्य में उचित क्रिया छांटकर लिखिए- (1×2=2)

- (i) मोर नाच रहा है (ii) लड़का पत्र लिखता है।

प्रश्न 4: अनेक शब्दों के लिए एक शब्द लिखिए- (1×3=3)

- (i) जो प्रशंसा के योग्य हो ii) चारों ओर ध्यान रखने वाला
- (iii) जिसके माता पिता ना हो

खंड- (ग) -लेखन

प्रश्न 5: पत्र लेखन लिखिए- (1×4=4)

अपने छोटे भाई को परीक्षा में सफलता पाने पर बधाई-पत्र लिखिए।

अथवा

अपने विद्यालय के प्रधानाचार्य को अपना सेक्शन बदलवाने के लिए प्रार्थना-पत्र लिखिए।

प्रश्न 6: किसी एक विषय पर कहानी लेखन कीजिए- (1×3=3)

संकेत बिंदु -गाँव -रामप्रसाद - ग्वाला- बेईमान था - पैसों से भरी थाली - एक नदी रुपयों
- की थैली छुपा कर - वृक्ष पर बंदर - ईमानदारी की कमाई फलदायक।

अथवा

संकेत बिंदु- एक बूढ़ा व्यक्ति - पुत्र आलसी - बूढ़ा मृत्यु की कगार पर - मैदान में छिपा खज़ाना
- गेहूँ की फसल।

..... समाप्त.....



Delhi Public School Baramulla
Subject Enrichment Program (SET 3) 2025-2026

विषय:-हिन्दी

कक्षा:- सातवीं (7th)

अधिकतम अंक :-20

अनुक्रमांक :-.....

सामान्य निर्देश

- इस प्रश्न-पत्र में तीन खंड हैं खंड 'क', 'ख' और 'ग'। प्रश्न पत्र में कुल प्रश्नों की संख्या 6 है।
- खंड 'क' में कुल एक अपठित गद्यांश है। गद्यांश पर आधारित 5 वर्णनात्मक प्रश्न दिए गए हैं।
- खंड 'ख' में व्यावहारिक व्याकरण पर आधारित 3 प्रश्न पूछे गए हैं। सभी प्रश्नों के उत्तर ध्यान से लिखें।
- खंड 'ग' में रचनात्मक लेखन पर आधारित 2 प्रश्न पूछे गए हैं। प्रश्नों में आंतरिक विकल्प भी दिए गए हैं। प्रश्नों के उत्तर दिए गए निर्देशों का पालन करते हुए लिखिए।
- कार्य में स्वच्छता का विशेष ध्यान रखें और सभी प्रश्नों को ध्यानपूर्वक

खंड-क

प्रश्न 1. निम्नलिखित अपठित गद्यांश को पढ़कर प्रश्नों के उत्तर लिखिए।

(1×5=5)

गरमी के इस प्रकोप से अपने आपको बचाने के लिए मनुष्य ने उपाय खोज निकाले हैं। साधारण आय वाले घरों में बिजली के पंखे चल रहे हैं, जो नर-नारियों की पसीने से रक्षा करते हैं। अमीरों के यहाँ वातानुकूलन यंत्र लगे हैं। समर्थ जन गरमी से बचने के लिए पहाड़ी स्थलों पर चले जाते हैं और ज्येष्ठ की तपती दोपहरी पहाड़ की ठंडी हवाओं में बिताते हैं। प्यास बुझाने के लिए शीतल पेय है बर्फ और बर्फ से बने पदार्थ ग्रीष्म के शत्रु और लोगों के लिए वरदान हैं

(क) गरमी के प्रकोप से बचने के लिए किसने उपाय खोज निकाले हैं?

- | | |
|-------------------|-----------------|
| (i) मछलियों ने | (ii) जानवरों ने |
| (iii) मनुष्यों ने | (iv) इन सभी ने |

ख) अमीरों के यहाँ क्या लगे हुए हैं?

- | | |
|-------------------------|-----------------------|
| (i) वातानुकूलन के यंत्र | (ii) भूकंप रोधी यंत्र |
| (iii) परीक्षण यंत्र | (iv) उपर्युक्त सभी |

(ग) समर्थ जन गरमी से बचने के लिए कहाँ चले जाते हैं?

- | | |
|------------------|------------------|
| (i) हिमालय पर | (ii) शिमला |
| (iii) पहाड़ों पर | (iv) कन्याकुमारी |

(घ) प्यास बुझाने के लिए क्या है?

(i) पानी

(ii) शीतल पेय

(iii) घड़े का जल

(iv) फ्रिज का जल

गरमी में आम लोगों के लिए क्या है?

(i) बर्फ और बर्फ से बने पदार्थ

(ii) शीतल पेय

(iii) पानी

(iv) प्यास

खंड -ख व्याकरण

प्रश्न 2 उचित सर्वनाम छांटकर लिखिए

(1×3=3)

i) _____ स्कूल जा रही है। (वह /तुम)

ii) यह ककताब _____ है । (मेरी/उसकी)

iii) पापा ने कहा कि यह काम _____ करना (तुम/वह)

प्रश्न 3. निम्नलिखित मुहावरों का अर्थ लिखकर वाक्य में प्रयोग करें।

(1×2=2)

(i) आँख का तारा”

(ii) “दाल में कुछ काला होना”

प्रश्न.4 निम्नलिखित वाक्य में संज्ञा के भेद लिखिए-

(1×3=3)

i)राम एक व्यक्ति का नाम है ।

ii)दिल्ली एक शहर का नाम है ।

iii)किताब एक वस्तु है ।

खंड- (ग) -लेखन

प्रश्न 5 . किसी एक विषय पर निबंध लिखिए।

(1×4=4)

प्रदूषण की समस्या।

अथवा

पुस्तकालय

प्रश्न 6. वर्षा का वर्णन करते हुए डायरी लेखन कीजिये।

(1×3=3)

अथवा

जन्मदिन का वर्णन करते हुए डायरी लेखन कीजिए।

..... समाप्त.....



DELHI PUBLIC SCHOOL BARAMULLA

SUBJECT ENRICHMENT PROGRAM (SET -1) (2025-26)

Class: 7th

Maximum Marks: 20

Subject: Science

Name : _____

Roll No: _____

General Instructions:

- This question paper consist of three sections. Section A, B and C.
- Section A consists of 5 MCQ'S and 5 fill in the blanks carrying one marks each
- Section B consist of 2 short answer type questions carrying two marks each
- Section C consist of 2 long answer type questions carrying three marks each

SECTION A

Q1. Which of the following cannot prepare its own food?

- a) Mushroom. b) pitcher plant. c) both a and b

Q2. Which is the simplest form of the food formed during photosynthesis?

- a) Starch. b) glucose. c) fat

Q3. Which of the following plant has Rhizobium in its roots nodules?

- a) Peas b) Gram. c) both a and b

Q4. Which process in plants are supported by the stomata present on the lower surface of the leaves?

- a) Reproduction. b) transpiration. c) transportation

Q5. Organisms which prepare their own food are known as:-

- a) autotrophs b) heterotrophs. c) saprotrophs

FILL IN THE BLANKS

Q.6. Autotrophic plants are also called as _____

Q7. The ____ guards the opening and closing of stomata .

Q8. _____ is an example of nitrogen fixing bacterium.

Q9. _____ plant has the biggest and the heaviest flower.

Q10. A tissue called _____ carries water and minerals from the root to the leaves of the plant

SECTION B


Q11. Tabulate the differences between autotrophs and heterotrophs

Q12. How are partial parasitic plants different from the other parasitic plants?

SECTION C

Q13. Describe the role of chlorophyll in photosynthesis.

Q14. Identify the given blow diagram and comment on it.



*****CONCLUDED*****



DELHI PUBLIC SCHOOL BARAMULLA

SUBJECT ENRICHMENT PROGRAM (SET -2) (2025-26)

Class: 7th

Maximum Marks: 20

Subject: Science

Name : _____

Roll No: _____

General Instructions:

- This question paper consist of three sections. Section A, B and C.
- Section A consists of 5 MCQ'S and 5 fill in the blanks carrying one marks each
- Section B consist of 2 short answer type questions carrying two marks each
- Section C consist of 2 long answer type questions carrying three marks each

SECTION A

Q1. The largest chamber of the ruminants stomach is:-

- a) Rumen . b) Abomasum. c) omasum

Q2. Which structure in amoeba help in digesting food?

- a) Vacuole b) Pseudopodia c) all of the above

Q3. Which of the following food item will not show a positive iodine test for starch?

- a) slice of potato b) mustard oil c) cooked rice

Q4. In which of the following organ no digestion occur?

- a) Buccal cavity. b) small intestine. c) oesophagus

Q5. Which organ produces bile?

- a) stomach b) small intestine c) liver

FILL IN THE BLANKS

Q.6. _____ are used for cutting and biting in humans

Q7. _____protects the stomach from the effect of an acid

Q8. Starch is finally converted into _____ after digestion

Q9. Most of the water in food is absorbed in _____

Q10. _____ is the real stomach of the cow.

SECTION B

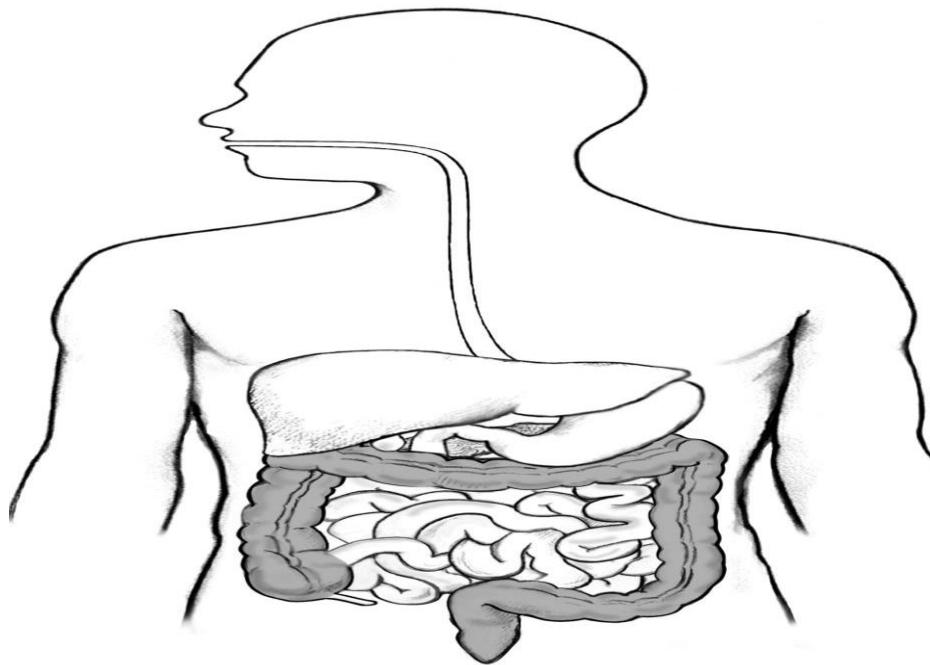
Q11. Tabulate the differences between autotrophs and heterotrophs

Q12. How are partial parasitic plants different from the other parasitic plants?

SECTION C

Q13. Describe the role of chlorophyll in photosynthesis.

Q14. Identify the given blow diagram and comment on it.



*****CONCLUDED*****

*****CONCLUDED*****



DELHI PUBLIC SCHOOL BARAMULLA

SUBJECT ENRICHMENT PROGRAM (SET -3) (2025-26)

Class: 7th

Maximum Marks: 20

Subject: Science

Name : _____

Roll No: _____

General Instructions:

- This question paper consist of three sections. Section A, B and C.
- Section A consists of 5 MCQ'S and 5 fill in the blanks carrying one marks each
- Section B consist of 2 short answer type questions carrying two marks each
- Section C consist of 2 long answer type questions carrying three marks each

SECTION A

Q1. The plant from which the parasite derives its nutrition is called its:-

- a) Partial parasite . b) Host c) saprophyte

Q2. The rhizobium in the roots help in the absorption of which nutrient

- a) Nitrogen b) carbon dioxide c) Oxygen

Q3. Organisms which depend on the dead and the decaying matter?

- a) Consumers b) Decomposers c) saprophyte

Q4. Thread like projections present inside the small intestine that help in the absorption of food are known as?

- a) Pseudopodia b) cilium c) Villi

Q5. Bile is stored in :-

- a) stomach b) Gall bladder c) liver

FILL IN THE BLANKS

Q.6. _____ enzyme is present in the saliva

Q7. The outer part of the tooth is called _____

Q8. _____ is the process of taking in the food

Q9. The wavy movement of the oesophagus is known as _____

Q10. _____ is the largest chamber of the cow.

SECTION B

Q11. Cascuta plant cannot perform photosynthesis. How do they obtain their nutrition?

Q12. What is nutrition? What are the different steps involved in nutrition

SECTION C

Q13. Why do farmers grow a leguminous crop in between the two main crops ?explain.

Q14 Name the members associated in lichen. How does each member benefit from the other ?

*****CONCLUDED*****



DELHI PUBLIC SCHOOL BARAMULLA

Set-1

Class:7th.

Maximum Marks: 20

Subject: SST

Name _____

General Instructions:

General Instructions:

Read the following instructions very carefully and strictly follow them.

This paper comprises of four sections A, B C and D. This set carries 10 Questions. All questions are compulsory.

Section A – Questions no. 1 to 5 are short answer type questions of 1 mark each.

Section B – Questions no. 6 and 7 are short answer type questions, carrying 2 marks each.

Section C – Questions no8 and 9 are long answer type questions, carrying 3 marks each. Answer to each question should not exceed 80 words.

Section D- Question no. 10 is map based carrying 5 marks.

Tick the correct answers

1. This century marked the end of the medieval period in India.

a.8th b. 18th c. 17th D. 10th

2.Babur used this term to describe the geography and natural vegetation of the subcontinent.

a.Bharatvarsha. b. India c.Jambudvipa d. Hindustan

3.This archaeological source tell us about the customs,food habits dress and jewellery of a period

a.Monuments b. Coins c. Paintings d.Inscriptions

Fill in the blanks.

4.Coins and manuscripts are some _____

5.This traveller was sent by the ruler of Persia to the kingdom of Vijaynagar _____

Give short answers for the following questions.

6.Which century marked the beginning of the medieval period

7.What do you understand about the 'Indian' culture that emerged in medieval India?

Give long answers for the following questions.

8. What did Hindustan stand for in mediaeval times?

9. What were the major historical developments during the

10. On an political outline map of India, mark and label the five given states through which the tropic of cancer passes:

1.Gujarat 2.Rajasthan 3. Madhya Pradesh 4.Chhattisgrah 5 jharkhand





DELHI PUBLIC SCHOOL BARAMULLA

Set-2

Class:7th.

Maximum Marks: 20

Subject: SST

Name _____

General Instructions:

General Instructions:

Read the following instructions very carefully and strictly follow them.

This paper comprises four sections A, B C and D. This set carries 10 Questions. All questions are compulsory.

Section A – Questions no. 1 to 5 are short answer type questions of 1 mark each.

Section B – Questions no. 6 and 7 are short answer type questions, carrying 2 marks each.

Section C – Questions no8 and 9 are long answer type questions, carrying 3 marks each. Answer to each question should not exceed 80 words.

Section D- Question no. 10 is Diagram based carrying 5 marks.

Tick the correct answers

1. In India the _____ makes laws for us.

a. Government b. Supreme Court c. Parliament

D. Village Panchayat

2. There can be no _____ democracy if there is no fair distribution of wealth in the society

a. Political b. social c. Economic d. equal

3. Democracy implies rule of the _____

a. Government b. King c. Military. d. Common people

Fill in the blanks.

4. There are different types of _____ in the world.

5. A democratic government will be meaningful only if its citizens are socially equal and _____ free.

Give short answers for the following questions.

6. What do you understand about absolute monarchy? Name one country which follows this form of government.

7. What is direct democracy? Is it practical to follow it in India?


Give long answers for the following questions.

8. What is a Village Panchayat?

9. Write a note on elections.

10. a. Label the four pillars of democracy shown below:

DEMOCRACY



(1) (2) (3) (4)

b.Observe the following flowchart and answer the questions:

Voters



Election Campaign



Polling



Counting



Results



Government Formation

a) Name the process shown in the diagram.

b) Which step comes just before counting?

c) Which step is done by the voters?

*****CONCLUDED*****



DELHI PUBLIC SCHOOL BARAMULLA

Set-3

Class:7th.

Maximum Marks: 20

Subject: SST

Name _____

General Instructions:

General Instructions:

Read the following instructions very carefully and strictly follow them.

This paper comprises four sections A, B C and D. This set carries 10 Questions. All questions are compulsory.

Section A – Questions no. 1 to 5 are short answer type questions of 1 mark each.

Section B – Questions no. 6 and 7 are short answer type questions, carrying 2 marks each.

Section C – Questions no8 and 9 are long answer type questions, carrying 3 marks each. Answer to each question should not exceed 80 words.

Section D- Question no. 10 is map based question carrying 5 marks

Fill in the blanks

a.The period between the _____ and _____ centuries is known as the Medieval Period.

b.Medieval period began after the fall of the _____ Empire.

c. The capital of the Eastern Roman Empire was _____.

d. The land granted to a vassal by a lord was called a _____.

e. The deadly disease that spread across Europe in the 14th century was the _____.

Give short answers for the following questions.

6. Why are coins and inscriptions important for the study of the medieval period?

7. What do you understand about the rule of law?

Give long answers for the following questions.

8.How are travelogues an important literary source?

9. Explain why democracy is much more than just a form of government.

10. **On the outline map of India, mark and label the following:**

1. **The region is ruled by the Delhi Sultanate.**
2. **The Mughal Empire at the time of Akbar.**
3. **Vijayanagara Empire in South India.**
4. **Important trade centers: Delhi, Agra, and Calicut.**
5. **Major rivers that supported these empires: Ganga and Godavari.**

